

## STATISTICA INFERENZIALE – SCHEDA N. 2

# INTERVALLI DI CONFIDENZA PER IL VALORE ATTESO E LA FREQUENZA

Nella scheda precedente abbiamo visto come si stima un parametro incognito di una variabile aleatoria definita su una popolazione; in particolare abbiamo considerato la cosiddetta **stima puntuale** della media e della frequenza relativa, dove “stima puntuale” significa fornire **un** valore per il parametro, usando dati campionari.

In questa scheda costruiremo un intervallo nel quale ci aspettiamo stia il parametro da stimare con un elevato grado di fiducia. Questa “fiducia” è assegnata in termini probabilistici e viene detta **confidenza** (con una cattiva traduzione dall’inglese confidence).

Un tale intervallo si dice **intervallo di confidenza** e la probabilità (che indicheremo con  $1-\alpha$ ) assegnata viene detta **livello di significatività** (o livello di confidenza). Usualmente si sceglie come livello di significatività il 95% o il 99%.

### 1. Intervalli di confidenza per il valore atteso

Se si vuole stimare la media  $\mu$  di una variabile aleatoria  $X$  definita su una popolazione tramite un campione di numerosità fissata, allora si può scegliere come stimatore  $\bar{X}_n$ .

Un esempio è la stima del prezzo medio di un litro di latte in Liguria. Qui la popolazione è formata dai prezzi di tutti i litri di latte venduti in un determinato periodo in Liguria. Per determinare il prezzo medio l’ISTAT (Istituto Nazionale di Statistica) effettua un campionamento su vari negozi della regione, tenendo conto della dislocazione geografica, del tipo di distribuzione (supermercato, negozio) e di altri fattori. Nella nostra indagine sui prezzi di alcuni prodotti delle nostre zone di residenza abbiamo effettuato un campionamento non molto rappresentativo: comunque utilizzeremo questi dati e poi li confronteremo con quelli ufficiali.

Una stima puntuale del valore atteso  $\mu$  è data dal valore  $\bar{x}_n$  assunto dalla variabile  $\bar{X}_n$  nel campione.

Un *intervallo di confidenza*, a livello di significatività del 95%, è un intervallo aleatorio

$$(\bar{X}_n - \delta, \bar{X}_n + \delta)$$

con  $\delta$  scelto in modo tale che

$$P(\bar{X}_n - \delta < \mu < \bar{X}_n + \delta) = 0.95,$$

ossia tale che la probabilità di sbagliare sia pari a  $\alpha=0.05$  e quindi bassa.

La realizzazione campionaria dell’intervallo è:

$$(\bar{x}_n - \delta, \bar{x}_n + \delta)$$

Come si calcola  $\delta$ ?

Il calcolo dell’intervallo di confidenza si basa sulla probabilità che la variabile aleatoria  $\bar{X}_n$  sia compresa fra  $\mu - \delta$  e  $\mu + \delta$ :

$$0.95 = P(\mu - \delta < \bar{X}_n < \mu + \delta)$$

È quindi necessario *conoscere la distribuzione di probabilità dello stimatore*. Questo è possibile se si conosce la distribuzione della variabile aleatoria  $X$  di partenza.

In particolare, se  $X$  ha distribuzione normale, anche  $\bar{X}_n$  ha distribuzione normale con valore atteso  $\mu$  e sappiamo calcolare  $\delta$  in modo che:

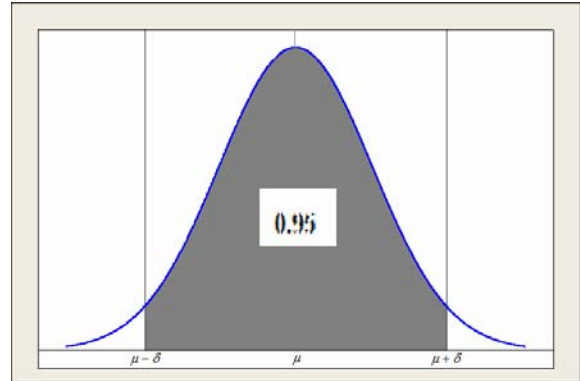
$$P(\mu - \delta < \bar{X}_n < \mu + \delta) = 0.95$$

Questo valore di  $\delta$  ci permette di trovare l'intervallo di confidenza. Infatti:

$$P(\mu - \delta < \bar{X}_n < \mu + \delta) = P(\bar{X}_n - \delta < \mu < \bar{X}_n + \delta)$$

e quindi:  $0.95 = P(\bar{X}_n - \delta < \mu < \bar{X}_n + \delta)$

che è proprio l'intervallo di confidenza per  $\mu$  a livello di significatività del 95%.



### 1.1 Caso X distribuzione normale con varianza nota

Vediamo come calcolare effettivamente  $\delta$ . Consideriamo prima il caso in cui la distribuzione di  $X$  sia normale e la *varianza sia nota*.

**ESEMPIO:** Si estrae un campione di numerosità 100 da una popolazione con distribuzione normale con varianza  $\sigma^2 = 225$  nota e valore atteso incognito  $\mu$ .

Vogliamo calcolare un intervallo di confidenza del valore atteso a livello di confidenza di  $1-\alpha=0.95$  sapendo che la stima della media sul campione è  $\bar{X}_n = 1450$ . Abbiamo visto che lo stimatore  $\bar{X}_n$  ha valore atteso  $\mu$

e varianza  $\frac{\sigma^2}{n} = \frac{225}{100} = 2.25$ . Sappiamo, inoltre, che  $\bar{X}_n$  ha ancora distribuzione normale:  $\bar{X}_n \sim N(\mu, 2.25)$ .

Vogliamo determinare  $\delta$  tale che

$$P(\mu - \delta < \bar{X}_n < \mu + \delta) = 0.95$$

Per poter utilizzare le tavole della funzione di distribuzione cumulata di una variabile aleatoria  $Z$  normale  $(0,1)$ , standardizziamo  $\bar{X}_n$ :

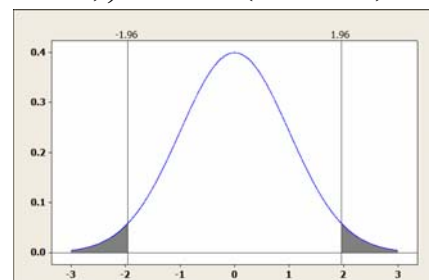
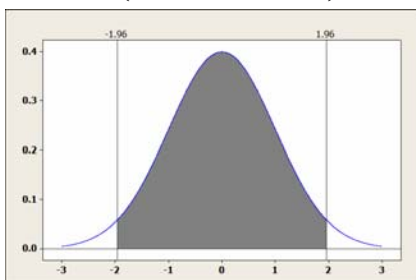
$$0.95 = P(\mu - \delta < \bar{X}_n < \mu + \delta) = P\left(\frac{\mu - \delta - \mu}{\sigma_{\bar{X}}} < \frac{\bar{X}_n - \mu}{\sigma_{\bar{X}}} < \frac{\mu + \delta - \mu}{\sigma_{\bar{X}}}\right) = P\left(-\frac{\delta}{1.5} < Z < \frac{\delta}{1.5}\right)$$

Siccome il grafico della densità di probabilità di  $Z$  è simmetrico rispetto all'asse verticale,

la probabilità che  $Z$  sia compresa fra i due valori  $-\frac{\delta}{1.5}$  e  $\frac{\delta}{1.5}$  è uguale a 1 meno la probabilità delle due

parti esterne (le cosiddette "code"):

$$P\left(-\frac{\delta}{1.5} < Z < \frac{\delta}{1.5}\right) = 1 - \left(P\left(Z < -\frac{\delta}{1.5}\right) + P\left(Z > \frac{\delta}{1.5}\right)\right) = 1 - 2P\left(Z < -\frac{\delta}{1.5}\right)$$



Quindi:

$$0.95 = 1 - 0.05 = 1 - 2P\left(Z < -\frac{\delta}{1.5}\right) \Leftrightarrow 0.05 = 2P\left(Z < -\frac{\delta}{1.5}\right) \Leftrightarrow 0.025 = P\left(Z < -\frac{\delta}{1.5}\right)$$

Dalle tavole si ottiene che  $\frac{\delta}{1.5} = 1.96$ , ossia  $\delta = 2.94$ , soddisfa le condizioni richieste.

Infine, sostituendo il valore numerico ottenuto sul campione, si ha che

$$(1450 - 2.94, 1450 + 2.94) = (1447.06, 1452.94)$$

è la *realizzazione* dell'intervallo di confidenza del valore atteso a livello 0.95.

Noi non sappiamo se il valore atteso di X nella popolazione appartenga o no effettivamente a questo intervallo.

Se avessimo avuto un'altra stima puntuale per la media, proveniente da un altro campione, avremmo avuto anche un diverso intervallo di confidenza.

**Fra tutti i possibili intervalli di confidenza costruiti in questo modo sulla base di tutti i possibili campioni, il 95% contiene la media di X nella popolazione e il 5% non la contiene.**

Riassumiamo i conti fatti per determinare un intervallo di confidenza a livello  $1-\alpha$  per la media di una variabile aleatoria con distribuzione normale di media  $\mu$  incognita e varianza  $\sigma^2$  nota:

1. Si utilizza come stimatore la media empirica  $\bar{X}_n$  di un campione di numerosità n e si ricava la stima  $\bar{X}_n$ .
2. Si cerca sulle tavole della normale standardizzata, il valore  $z_\alpha$ , tale che

$$P(Z < -z_\alpha) = 1 - \frac{\alpha}{2}.$$

3. Si costruisce l'intervallo aleatorio  $\left(\bar{X}_n - z_\alpha \frac{\sigma}{\sqrt{n}}, \bar{X}_n + z_\alpha \frac{\sigma}{\sqrt{n}}\right)$ ;

questo intervallo, che ha come estremi due variabili aleatorie, **ha probabilità  $1-\alpha$**  di contenere  $\mu$ .

4. Si sostituisce il valore campionario  $\bar{X}$  e si ottiene la realizzazione numerica dell'intervallo per il campione ottenuto. In formule:

$$I = \left(\bar{X}_n - z_\alpha \frac{\sigma}{\sqrt{n}}, \bar{X}_n + z_\alpha \frac{\sigma}{\sqrt{n}}\right)$$

Riportiamo nella seguente tabella i valori di  $z_\alpha$  per alcuni  $\alpha$ :

livello di conf.	90%	95%	99%
$\alpha$	0.10	0.05	0.01
$z_\alpha$	1.65	1.96	2.58

## 1.2 Caso X distribuzione normale con varianza sconosciuta

Quando la varianza della variabile aleatoria X è sconosciuta, si stima usando lo stimatore non distorto  $S^2$ . La formula per calcolare l'intervallo di confidenza per il valore atteso è *leggermente* differente: non si usa  $z_\alpha$  ma un altro valore che però è molto vicino a  $z_\alpha$  se la numerosità campionaria è *molto grande* (maggiore di 100); in queste schede noi useremo l'approssimazione:

$$I = \left( \bar{x} - z_\alpha \frac{s}{\sqrt{n}}, \bar{x} + z_\alpha \frac{s}{\sqrt{n}} \right)$$

dove s è la realizzazione campionaria della standard deviation:  $s = \sqrt{\frac{1}{n-1} \sum_{i=1}^n (x_i - \bar{x}_n)^2}$

## 1.3 Caso X con distribuzione qualsiasi e numerosità del campione grande

Cosa si può fare nel caso in cui la variabile X non abbia densità normale?

In alcuni casi è possibile calcolare in modo esplicito la distribuzione degli stimatori. Nella maggior parte dei casi, però, si utilizza l'approssimazione normale garantita dal Teorema del Limite Centrale. Abbiamo, infatti, visto che per n *sufficientemente* grande la media campionaria  $\bar{X}_n$  ha *quasi* una distribuzione normale di media  $\mu$  (pari a quella di X) e varianza  $\sigma^2/n$ . Quindi un intervallo di confidenza a livello  $1-\alpha$  per la media di una variabile aleatoria con distribuzione NON normale di media  $\mu$  incognita e varianza  $\sigma^2$  nota sarà ancora

$$I = \left( \bar{x}_n - z_\alpha \frac{\sigma}{\sqrt{n}}, \bar{x}_n + z_\alpha \frac{\sigma}{\sqrt{n}} \right)$$

con n, numerosità del campione, grande.

Resta da stabilire il significato di questa parola *grande*. Nella maggior parte dei casi una numerosità campionaria superiore a 30 è considerata accettabile per poter applicare il Teorema del Limite Centrale. Ricordiamo che i risultati sono approssimati e sono tanto più precisi quanto più alta è la numerosità campionaria.

Anche in questo caso, se la varianza non è nota si stima utilizzando lo stimatore non distorto  $S^2$  e l'intervallo di confidenza è circa:

$$I = \left( \bar{x}_n - z_\alpha \frac{s}{\sqrt{n}}, \bar{x}_n + z_\alpha \frac{s}{\sqrt{n}} \right)$$

### ESEMPIO:

Nel caso dei dati raccolti sul prezzo del latte, abbiamo:

- il prezzo medio campionario è  $\bar{x} = 1.34$  euro
- la standar deviation campionaria è:  $s = 0.25$  euro
- la numerosità campionaria è: 57

quindi  $\frac{s}{\sqrt{n}} = 0.0333$

Tutti questi valori sono forniti direttamente da Minitab; il valore di  $\frac{s}{\sqrt{n}}$  è indicato nella colonna SE MEAN (cioè standard error della variabile aleatoria Media campionaria).

Variable	BENE	N	N*	Mean	SE Mean	StDev	Minimum	Q1	Median	Q3	Maximum
PREZZO	Latte	57	0	1.3398	0.0333	0.2512	0.6900	1.3000	1.3700	1.3900	2.5900

Non sappiamo se la variabile aleatoria che modella il prezzo di un litro di latte abbia distribuzione normale, ma essendo la numerosità campionaria maggiore di 30 possiamo usare il Teorema del limite centrale e trovare un intervallo di confidenza approssimato.

Se scegliamo  $\alpha = 0.05$ , la realizzazione campionaria dell'intervallo di confidenza per il prezzo medio di un litro di latte è:

$$\left( \bar{x}_n - z_\alpha \frac{s}{\sqrt{n}}, \bar{x}_n + z_\alpha \frac{s}{\sqrt{n}} \right) = (1.3398 - 1.96 \times 0.0333, 1.3398 + 1.96 \times 0.0333) = (1.28, 1.41)$$

Se scegliamo  $\alpha = 0.01$ , la realizzazione campionaria dell'intervallo di confidenza per il prezzo medio di un litro di latte è:

$$\left( \bar{x}_n - z_\alpha \frac{s}{\sqrt{n}}, \bar{x}_n + z_\alpha \frac{s}{\sqrt{n}} \right) = (1.3398 - 2.58 \times 0.0333, 1.3398 + 2.58 \times 0.0333) = (1.25, 1.43)$$

*È meglio un intervallo di confidenza a livello di significatività del 95% o del 99%?*

Sicuramente con un intervallo di confidenza a livello di significatività del 99% la probabilità di errore è più piccola rispetto a quella con un intervallo al 95%.

Ma nel primo caso l'ampiezza dell'intervallo è più grande: quello che si guadagna in precisione si perde in ampiezza.

Nell'esempio precedente:

- al 95% si ha  $\delta = 6$  centesimi di euro
- al 99% si ha  $\delta = 9$  centesimi di euro

## ESERCIZIO

Calcolare la realizzazione campionaria di un intervallo di confidenza del prezzo medio degli altri beni raccolti

Variable	BENE	N	N*	Mean	SE Mean	StDev	Minimum	Q1	Median	Q3	Maximum
PREZZO	Benzina	64	0	1.2450	0.00382	0.0305	1.1200	1.2363	1.2450	1.2560	1.3000
	CD	35	0	1.069	0.108	0.637	0.290	0.800	0.950	1.000	3.900
	DVD	45	0	3.257	0.125	0.837	1.290	2.990	3.000	4.000	5.000
	Gasolio	54	0	1.1155	0.00557	0.0410	1.0120	1.0980	1.1120	1.1308	1.2500
	Olio	46	0	6.410	0.285	1.932	3.650	4.938	5.990	7.360	13.500

## 2. Intervalli di confidenza per la frequenza p

Nella scheda precedente abbiamo visto che uno stimatore per la frequenza di una variabile aleatoria dicotomica è dato da

$$\hat{p} = \frac{X_1 + \dots + X_n}{n}$$

dove ciascuna delle variabili aleatorie  $X_1, \dots, X_n$  vale 1 (con probabilità p) oppure 0 (con probabilità 1-p) a seconda che si ottenga un successo o un insuccesso.

Abbiamo già visto che  $E(\hat{p}) = p$  e  $\text{Var}(\hat{p}) = \frac{p(1-p)}{n}$ .

Se abbiamo un campione di numerosità elevato possiamo approssimare la distribuzione di  $\hat{p}$  con quella normale:  $\hat{p} \sim \mathcal{N}\left(p, \frac{p(1-p)}{n}\right)$ . Anche la varianza è incognita perché dipende ancora dal parametro p,

ma si può stimare a partire dalla stima  $\hat{p}$  del parametro p. Uno stimatore non distorto per  $\text{Var}(\hat{p})$  è

$$S_{\hat{p}}^2 = \frac{\hat{p}(1-\hat{p})}{n-1}$$

Un intervallo di confidenza per p a livello di significatività  $1-\alpha$  è quindi

$$I = \left( \hat{p} - z_{\alpha} \sqrt{\frac{\hat{p}(1-\hat{p})}{n-1}}, \hat{p} + z_{\alpha} \sqrt{\frac{\hat{p}(1-\hat{p})}{n-1}} \right).$$

**ESEMPIO:** Una popolazione di animali è composta da una razza con il pelo uniforme e da una con il pelo striato. Si osservano 100 animali e si nota che 70 di questi hanno il pelo striato. Vogliamo calcolare un intervallo di confidenza a livello del 99% per la popolazione di animali dal pelo striato. Utilizziamo le formule precedenti scegliendo

$$n=100, \quad \hat{p} = 0.70, \quad \alpha=0.01, \quad z_{\alpha}=2.58.$$

Sostituendo otteniamo che la realizzazione dell'intervallo di confidenza per  $p$  è:

$$I = \left( 0.70 - 2.58 \sqrt{\frac{0.7 \times 0.3}{99}}, 0.70 + 2.58 \sqrt{\frac{0.7 \times 0.3}{99}} \right) = (0.58, 0.82).$$

## ESERCIZIO SU: Campionamento – Teorema del limite centrale – Intervalli di confidenza

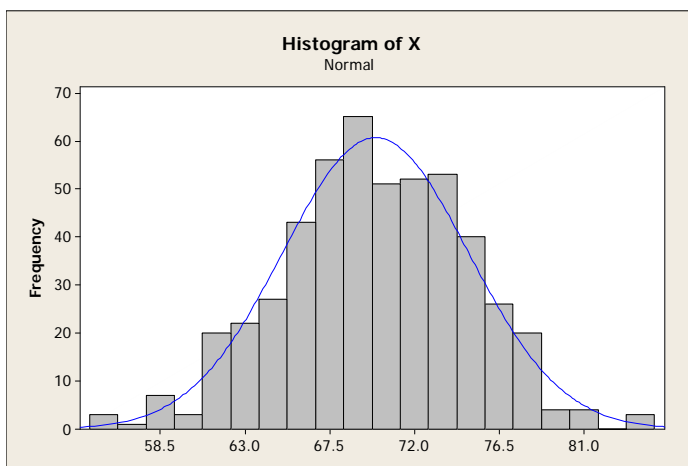
Si vuole stimare la media di una grandezza in una popolazione di 500 unità. Si modella il fenomeno con una variabile aleatoria  $X$ .

	1	2	3	4	5	6	7	8	9	10
0	70.3	65.8	63.0	62.0	69.0	70.8	73.8	70.5	72.1	75.8
1	78.4	66.0	69.2	62.1	77.0	70.6	68.9	65.9	76.1	61.3
2	73.2	70.6	75.2	72.5	70.0	68.6	66.8	69.1	73.8	75.6
3	68.4	68.2	62.3	76.9	72.2	67.4	71.2	77.0	66.2	72.0
4	67.4	69.7	68.2	62.7	75.1	63.2	72.9	62.8	69.6	62.1
5	68.2	66.4	72.4	65.2	67.3	68.6	74.2	66.7	67.9	68.6
6	66.2	72.5	65.7	69.7	75.4	78.2	73.8	69.2	69.4	78.3
7	72.1	75.6	76.3	71.7	75.9	78.6	69.5	72.2	63.3	67.4
8	60.2	74.1	74.8	63.5	66.2	67.8	65.5	68.1	74.0	68.9
9	69.2	61.8	64.5	61.3	71.0	71.4	72.5	71.7	72.9	69.6
10	62.7	71.1	77.6	73.5	66.8	72.0	67.5	69.2	69.8	77.9
11	76.8	80.5	68.6	67.2	63.4	70.5	61.8	68.9	64.4	72.7
12	72.9	66.6	58.5	73.3	73.7	67.5	64.1	70.1	76.8	77.3
13	69.9	68.7	75.3	69.6	67.6	66.7	68.5	77.4	75.6	67.5
14	71.2	68.8	65.9	70.0	65.3	67.0	54.9	71.0	63.1	77.8
15	71.9	67.4	74.6	65.0	72.1	70.6	72.5	74.3	75.8	62.0
16	65.8	74.5	62.6	76.6	75.3	78.0	71.6	77.8	64.4	71.7
17	66.7	71.0	69.5	68.3	72.9	70.6	74.5	71.5	64.4	78.5
18	65.0	73.6	71.2	70.9	69.4	75.9	83.6	73.5	73.3	68.6
19	73.1	75.5	76.1	69.7	65.3	72.7	72.4	65.8	69.2	61.1
20	69.0	68.7	61.2	71.3	65.9	75.3	68.2	67.6	72.6	69.2
21	75.6	75.7	68.1	73.3	74.5	72.0	80.1	66.5	64.0	70.3
22	68.2	70.4	69.5	72.5	69.3	72.8	73.2	72.0	70.9	73.6
23	84.5	73.4	68.2	71.2	73.7	66.2	74.0	75.6	74.1	65.1
24	61.1	77.2	75.0	73.1	71.6	68.1	69.8	63.5	69.5	84.7
25	63.6	72.7	76.5	70.7	72.5	63.5	67.4	67.0	74.6	66.7
26	66.6	68.3	64.8	75.5	75.8	68.6	70.2	68.0	70.0	72.1
27	71.3	69.7	64.7	64.3	66.1	74.1	72.9	65.6	71.2	64.0
28	68.7	58.2	69.7	70.0	68.4	69.6	74.8	70.2	72.7	73.6
29	73.3	62.7	62.3	72.0	72.8	73.4	79.5	65.4	74.6	63.5
30	73.3	67.8	68.2	80.2	65.2	63.3	70.1	69.3	66.9	71.1
31	75.0	80.8	66.8	74.5	69.4	67.5	68.8	75.6	62.0	73.5
32	74.8	75.1	72.7	70.1	77.4	72.8	74.4	61.9	55.6	73.3
33	70.4	66.4	70.6	75.2	71.7	67.8	58.4	68.8	66.9	64.2
34	71.4	66.2	78.5	64.0	59.4	60.6	66.6	68.3	70.2	61.1
35	71.3	73.4	76.8	55.6	74.3	70.9	77.8	69.1	65.7	69.0
36	67.9	64.2	73.5	71.2	58.7	71.7	68.8	76.2	68.8	67.5
37	77.8	65.8	69.4	67.8	71.3	67.0	66.5	78.4	66.6	64.9
38	72.2	72.8	66.2	64.3	68.4	68.2	65.0	65.3	73.7	62.1
39	73.2	75.2	67.5	73.7	67.3	73.7	62.5	66.8	69.8	69.9
40	63.1	72.2	75.2	60.9	74.6	69.6	66.0	67.7	61.8	80.2
41	75.3	69.4	69.2	68.2	76.9	77.1	73.1	68.6	78.3	70.1
42	70.5	68.0	66.3	76.2	65.4	67.9	63.8	73.5	70.0	70.7
43	72.6	72.0	75.5	72.2	68.2	73.8	77.0	73.1	63.9	71.5
44	66.4	73.0	70.4	76.1	76.9	69.4	68.6	68.9	64.5	70.8
45	67.7	80.9	59.2	62.8	73.2	71.4	58.7	64.7	74.6	67.4
46	62.7	69.0	66.7	70.6	68.7	67.9	76.7	73.4	70.2	67.1
47	75.6	68.9	68.8	71.9	66.2	70.2	72.3	66.2	67.5	73.9
48	67.3	61.9	72.3	71.5	78.7	81.3	62.1	59.1	66.9	72.0
49	68.1	66.6	75.0	76.0	57.4	61.2	73.3	77.9	64.2	64.8

Si vuole stimare la media  $\mu_X$  della variabile  $X$  nella popolazione, sapendo che la standard deviation di  $X$  è:  $\text{std}(X) = 4.93202$

- 1) Ciascuno studente estragga dalla popolazione 5 campioni casuali semplici di numerosità 20 utilizzando i numeri casuali riportati nella pagina seguente. (Campione casuale semplice: estratto con ripetizione da distribuzione uniforme)

La variabile X nella popolazione ha una distribuzione "a campana"; quindi per campioni di 20 unità sperimentali la distribuzione della variabile aleatoria  $\bar{X}_{20}$  può essere approssimata con quella di una variabile aleatoria normale.



(Nota: in genere si effettua tale approssimazione per numerosità maggiori di 30).

Unità sperim.	Campione 1	Campione 2	Campione 3	Campione 4	Campione 5
1					
2					
3					
4					
5					
6					
7					
8					
9					
10					
11					
12					
13					
14					
15					
16					
17					
18					
19					
20					

- 2) Scrivere la formula per l'intervallo di confidenza per  $\mu_x$  a livello di significatività del 95%, quando la varianza è nota.



- 3) Per ciascun campione estratto calcolare la media campionaria e l'intervallo di confidenza al 95% per  $\mu_x$ . Usare 5 cifre dopo la virgola.

	$\bar{x}_{20}$	semiampiezza intervallo	limite sinistro	limite destro
1				
2				
3				
4				
5				

- 4) Quando tutti gli studenti hanno terminato verrà fornito il valore vero di  $\mu_x$  e si verificherà quanti intervalli calcolati con la formula usuale contengono effettivamente  $\mu_x$ . Quanti intervalli si prevede contengano  $\mu_x$ ?

**Per campionario.** Qui sotto, per ciascuno studente, sono fornite 5 colonne con 20 numeri casuali fra 1 e 500 (numerosità della popolazione) estratti con ripetizione. Come utilizzare questi numeri.

Il primo numero casuale del primo studente 396. Quindi deve considerare il valore di X per la 396-esima unità sperimentale. Quale valore assume la variabile X per 396-esima unità campionaria? È scritto nella tabella dei dati della popolazione nella riga 39-esima e nella colonna 6: è 73.7

Se il numero è di una sola cifra, ad esempio 4, si cerca il valore presente alla riga 0 e alla colonna 4, cioè 62.0.

Se il numero è di due cifre, del tipo 40, si cerca il valore alla riga 30 e alla colonna 10

1	2	3	4	5
396	133	57	195	110
342	206	348	385	106
433	63	226	233	340
247	145	315	29	50
301	330	411	406	111
52	494	230	23	492
213	200	395	365	377
351	218	451	237	459
193	473	72	291	392
54	307	337	117	59
493	66	92	272	245
282	417	455	490	95
498	332	385	456	410
278	57	154	371	230
164	254	210	27	172
24	417	432	304	234
331	299	317	493	185
424	435	119	233	467
493	452	197	6	237
214	441	474	243	58
213	217	286	359	250
425	231	377	278	235
479	237	100	116	120
251	453	315	282	256
377	71	499	187	315
329	379	142	14	102
282	94	214	397	153
26	303	461	60	34
330	482	192	465	34
390	240	490	88	402
354	234	120	463	378
378	60	440	24	268
51	427	482	114	81
51	335	103	430	279
170	151	393	205	247
256	225	176	301	150
115	298	483	101	315
120	67	59	250	229
405	355	250	237	46
468	271	91	22	137
136	214	131	160	212
197	331	91	292	106
488	251	159	8	139
169	19	159	40	150
4	19	80	487	103
150	232	444	68	270
418	78	80	227	137
313	60	458	158	107
239	82	214	3	81
425	476	494	243	234
388	50	166	225	173
1	100	273	465	302
350	246	461	451	335
467	403	390	479	291
483	253	407	481	228
485	170	383	25	127
191	202	339	220	405
269	59	260	332	368
386	27	434	38	219
261	383	385	234	6
87	396	106	286	303
107	341	310	89	400
443	181	221	457	223
204	257	474	187	182
469	164	263	330	472
14	27	369	279	355
118	373	360	261	165
265	82	20	331	98
111	28	63	21	252
463	250	258	353	286
132	112	383	217	23
186	209	300	217	350
250	20	72	217	194
266	133	112	388	456
480	474	260	213	21
192	400	287	94	53
445	286	316	53	483
308	470	258	475	213
389	355	272	98	472
38	147	239	472	246
203	38	365	472	320
396	388	58	246	320
396	240	258	243	475
241	411	288	187	98
370	396	171	397	472
282	145	302	211	246
82	244	120	391	320
324	186	393	79	475
21	90	98	393	211
497	322	491	168	211
174	354	399	5	391
255	27	54	120	391
441	2	111	432	441
360	402	315	441	141
455	287	222	141	403
379	391	475	141	403
100		295		
6	7	8	9	10
154	20	154	352	84
42	244	205	80	269
267	387	325	131	447
93	12	489	149	169
307	385	328	488	49
241	376	198	390	169
345	319	320	397	245
118	185	432	420	25
37	389	139	188	190
255	242	210	390	149
362	257	406	308	480
283	363	234	149	217
68	81	454	169	101
158	465	183	465	351
376	264	426	239	176
365	264	421	372	62
415	64	186	33	263
438	314	374	327	184
350	478	97	27	229
259	64	275	245	450
180	313	192	232	29
483	248	105	60	30
483	247	357	27	247
183	126	463	374	29
232	84	82	134	181
347	134	272	47	215
202	348	226	183	40
93	168	381	211	164
93	490	228	410	273
183	188	228	184	215
57	23	436	91	40
197	52	45	90	142
239	147	478	70	277
261	77	62	316	454
212	167	478	47	164
198	480	284	476	339
252	376	213	439	298
467	73	187	116	488
388	36	307	47	346
474	471	328	470	1
74	483	26	465	448
41	454	316	459	151
499	413	171	297	320
499	473	221	436	365
221	116	333	478	58
171	493	421	408	432
15	93	109	209	118
243	91	491	264	73
243	210	500	473	106
368	130	5	12	240
329	434	333	470	90
126	149	48	490	67
20	69	185	499	253
20	344	461	183	244
9	183	461	109	478
315	269	461	411	426
467	10	134	426	374
467	297	134	374	11
40	253	216	189	334
115	169	478	189	266
426	9	216	211	24
493	383	478	413	220
167	434	478	413	266
62	169	296	445	91
67	72	486	445	233
34	324	126	289	83
335	301	486	376	235
450	92	409	118	170
227	49	409	296	286
307	30	409	477	20
54	14	247	473	261
151	305	4	473	262
132	332	123	406	479
469	333	221	219	32
457	212	476	256	262
161	96	476	32	479
480	289	476	334	32
480	374	129	413	6
304	135	260	413	239
46	135	287	8	457
65	242	468	58	246
353	104	129	275	6
304	319	440	489	239
139	338	440	442	92
65	371	30	442	32
353	242	264	291	92
24	242	264	9	85
406	380	264	318	85
406	164	264	469	269
111	96	264	60	136
111	56	264	60	269
207	56	264	325	136
74	56	264	494	269
342	123	330		76
498	211	330		363
213	100	330		76
		330		15

11

453	477	484	85	191
143	145	152	441	472
230	399	495	230	436
278	138	443	419	42
97	293	301	26	171
153	331	203	424	398
244	377	218	448	318
467	231	66	164	113
92	321	272	127	466
102	500	32	496	399
436	1	175	314	14
202	186	449	146	326
7	386	106	253	279
438	376	421	443	430
346	378	307	225	44
59	421	93	41	193
139	116	145	163	231
309	409	82	388	450
14	132	368	38	218
143	393	296	445	337

12

448	376	214	332	392
421	333	310	368	329
472	40	379	408	142
111	173	126	448	347
56	80	378	190	209
160	435	279	106	104
445	70	219	344	166
313	330	281	171	322
321	221	475	367	473
151	455	128	394	349
401	428	224	28	415
188	195	281	427	466
78	72	253	160	180
436	261	128	476	346
410	324	226	171	158
97	193	460	33	263
496	277	478	466	177
353	188	369	127	18
203	7	290	83	430
163	187	25	120	164

13

330	213	441	236	489
339	55	404	116	233
8	403	453	132	467
64	362	214	287	202
373	416	54	1	258
381	221	134	62	110
242	425	447	111	486
353	432	483	409	297
480	158	414	211	74
389	369	212	201	39
263	334	253	226	330
112	211	320	399	247
87	414	287	78	481
450	15	76	265	57
358	7	416	186	171
333	37	49	225	464
238	77	96	369	396
394	312	246	458	276
273	411	296	77	44
383	66	93	362	426

14

296	416	3	194	329
220	235	78	11	285
419	295	242	365	490
429	53	304	406	104
70	142	262	246	113
127	492	31	265	276
135	88	283	261	487
251	55	306	240	125
456	295	324	286	177
222	131	216	470	481
358	347	453	357	81
163	313	91	65	447
12	321	26	25	113
52	13	118	396	209
444	383	458	369	300
356	335	58	11	483
447	497	156	128	50
47	119	334	67	162
313	351	362	307	296
314	106	133	229	474

15

491	318	80	285	309
264	295	253	120	415
171	351	254	361	383
133	122	94	477	36
330	283	174	344	233
55	148	392	262	2
169	364	428	387	105
222	407	163	202	357
401	340	2	242	453
35	377	344	325	23
326	335	115	114	433
276	182	335	328	5
308	142	55	317	167
96	341	392	342	433
419	363	103	74	107
392	146	384	115	229
177	258	129	84	221
481	131	378	344	415
410	137	399	332	443
244	18	451	446	47

16

396	403	170	344	387
327	384	40	451	124
152	242	153	6	280
197	301	94	376	187
131	258	25	482	298
401	394	334	197	334
454	282	311	155	274
409	416	98	129	448
461	147	456	152	393
36	266	133	162	455
402	34	458	456	275
273	181	336	349	423
72	192	394	380	469
323	85	435	227	493
64	135	116	43	339
269	47	390	173	284
142	461	40	227	236
214	113	103	376	19
215	108	429	466	414
75	251	409	86	409

17

207	484	395	412	179
327	161	489	12	398
495	344	257	185	72
129	101	319	452	395
496	206	235	256	41
269	423	337	313	329
27	168	162	255	95
148	113	393	394	242
142	302	52	395	433
81	169	149	159	195
418	209	194	500	264
27	374	348	420	56
117	317	272	334	67
429	10	181	354	54
63	374	117	428	432
179	358	405	497	186
354	329	412	149	88
134	370	415	384	333
444	488	335	255	57
455	262	369	459	123

18

417	172	185	289	177
99	99	434	189	128
49	133	274	302	18
400	184	130	490	343
24	80	115	187	493
119	203	351	210	245
346	425	339	27	149
29	111	282	166	209
87	498	470	393	150
178	240	27	290	493
354	62	199	149	53
9	386	242	314	246
226	398	486	377	211
443	168	342	437	11
53	451	282	221	469
256	367	16	232	430
414	479	99	82	307
7	76	107	130	322
1	161	423	251	341
66	478	47	444	476

19

50	179	197	498	80
477	372	352	197	88
387	63	453	396	410
59	150	319	153	393
337	339	437	164	195
335	76	495	373	307
449	1	77	216	2
464	336	1	59	240
398	29	334	471	89
334	428	307	342	495
142	341	85	449	226
72	235	420	481	255
299	376	435	372	418
444	145	268	406	52
165	391	134	271	35
374	255	433	468	41
163	1	375	213	492
482	115	31	182	301
277	341	123	312	304
422	444	477	450	222

20

56	139	330	198	329
159	417	172	252	455
107	269	399	16	39
294	366	116	215	352
498	383	412	46	312
317	271	342	151	340
177	470	153	149	429
307	80	492	150	382
256	453	142	91	381
247	350	62	135	112
34	493	435	44	380
91	261	29	132	180
292	134	397	8	186
315	478	40	201	154
96	226	338	126	256
494	409	184	103	490
312	446	137	241	123
388	405	150	272	227
68	429	116	286	172
143	476	12	459	323

21					22					23					24					25				
109	445	199	110	306	22	415	244	16	409	309	285	252	468	345	259	44	344	126	353	91	344	167	282	403
41	407	295	225	460	482	79	39	161	331	364	165	413	390	152	109	452	466	425	7	473	266	477	311	390
298	66	474	65	192	19	400	380	11	337	237	365	16	181	306	240	371	212	19	260	415	338	341	303	392
322	110	131	129	36	375	55	311	341	36	416	366	479	249	118	160	295	46	463	359	295	185	405	241	249
311	334	367	24	438	46	401	35	70	463	341	43	254	267	64	228	388	356	305	176	143	396	322	382	92
280	45	124	381	494	325	51	262	477	32	330	424	157	149	177	267	62	343	393	350	97	282	128	472	461
363	479	55	223	56	126	208	388	124	169	87	457	242	461	489	165	406	381	51	275	439	118	317	417	150
209	459	149	104	462	306	364	303	454	373	439	175	106	205	131	174	261	139	369	380	242	298	236	382	365
455	413	116	87	402	475	358	79	368	301	363	313	396	479	489	340	136	238	94	168	115	347	106	60	162
500	95	8	373	222	140	347	52	311	25	114	379	279	180	128	366	180	153	457	411	118	44	300	350	127
173	398	315	411	397	287	187	89	469	364	106	54	486	38	158	278	220	434	178	40	199	353	14	79	292
388	439	208	483	318	243	225	334	90	49	418	289	404	460	337	152	174	377	420	124	184	404	29	277	259
102	497	413	368	130	397	268	85	254	409	260	252	489	249	12	169	5	491	461	432	173	109	34	42	155
97	121	141	390	409	72	64	376	303	112	262	80	122	41	411	494	184	296	409	254	375	438	130	246	190
464	269	335	190	187	358	432	54	149	439	20	416	24	390	406	376	360	455	109	425	403	67	386	355	484
463	325	473	70	99	208	334	377	329	461	66	9	468	23	269	332	448	10	115	490	110	39	411	96	77
232	316	281	349	327	336	329	135	237	265	170	151	347	223	138	156	345	74	137	450	390	406	229	238	491
359	392	424	209	340	480	244	307	98	143	428	277	256	258	319	323	250	487	108	269	42	30	39	399	272
137	153	314	227	380	240	207	314	84	400	336	170	479	159	390	58	104	18	302	346	414	479	25	245	29
464	26	384	365	399	64	160	105	57	199	97	494	451	241	281	68	67	213	16	223	197	201	352	473	75

## ESERCIZI

- 1) Da 400 lanci di una moneta sono risultati 175 esiti "testa" e 225 esiti "croce".
- Trovare un intervallo di confidenza al 90% per la probabilità di esito "testa".
  - Trovare un intervallo di confidenza al 99% per la probabilità di esito "testa".
  - Questa moneta sembra truccata? Giustificare la risposta.
- 2) Spiegare, eventualmente con un esempio, perché l'intervallo di confidenza di un parametro può non contenere il parametro che si vuole stimare.

3) Si vogliono effettuare stime per la quantità di sostanza attiva in una unità di un certo farmaco (espressa in mg). Si può ipotizzare che la variabile casuale  $X$  che rappresenta la quantità di sostanza attiva abbia distribuzione normale. A tal fine si effettua un campionamento casuale di 100 unità del farmaco. Per questo campione si ottiene:

$$\sum_{i=1}^n x_i = 222.91 \quad \text{e} \quad \sum_{i=1}^n x_i^2 = 1154.8$$

Calcolare una stima puntuale e un intervallo di confidenza a livello di significatività del 99% per la media di sostanza attiva del farmaco.

4) Dai dati del censimento del 1991 risulta che il numero di abitazioni di una città è 300 000 e che la media dell'epoca di costruzione delle abitazioni è 1815 e lo scarto quadratico medio è 50 anni. Uno statistico calcola l'intervallo di confidenza per la media dell'epoca di costruzione al 95%. Commentare.

5) Si determina l'ampiezza  $2\delta$  di un intervallo di confidenza a livello fissato  $1-\alpha$  per la media di una variabile aleatoria normale di varianza nota, sulla base di un campione di numerosità  $n$ . Quanto numeroso deve essere il campione se si vuole che l'intervallo risultante, con lo stesso livello, abbia ampiezza pari ad un terzo di quello che si ottiene con un campione di numerosità  $n$ ?

- 6) Sia  $X$  una variabile aleatoria di Bernoulli di parametro  $p$ , siano  $X_1, \dots, X_n$  le variabili aleatorie campionarie e sia  $\hat{P}$  lo stimatore di  $p$ .
- Scrivere (in funzione di  $n, p$ ) la semiampiezza  $\delta$  dell'intervallo di confidenza per  $p$  a livello di significatività del 95%.
  - Per quale valore di  $p$  la semiampiezza  $\delta$  è massima?
  - Come deve essere scelto  $n$  affinché la semiampiezza  $\delta$  sia minore o uguale a 0.05?

7) Sia  $X$  una variabile aleatoria con distribuzione normale di media  $\mu$  e varianza  $\sigma^2$  entrambe sconosciute. Per stimare il parametro  $\mu$  si effettua un campionamento di numerosità 16. Si indichi con  $I_{16}^\alpha$  la realizzazione campionaria dell'intervallo di confidenza per  $\mu$  a livello di significatività fissato  $1-\alpha$ . Si amplia il campione precedente di altre 9 unità (ottenendo un campione totale di 25 elementi); si indichi con  $I_{25}^\alpha$  la realizzazione campionaria dell'intervallo di confidenza per  $\mu$  nel campione totale allo stesso livello di significatività.

Dire se le seguenti relazioni sono vere, false o se non si può affermare né una cosa né l'altra:

a)  $I_{16}^\alpha \subset I_{25}^\alpha$     b)  $I_{16}^\alpha \supset I_{25}^\alpha$     c)  $I_{16}^\alpha \cap I_{25}^\alpha = \emptyset$     d)  $I_{16}^\alpha \cap I_{25}^\alpha \neq \emptyset$

8) Sia  $X$  una variabile aleatoria con distribuzione normale di media sconosciuta e varianza nota. Indichiamo con  $(A, B)$  l'intervallo di confidenza per la media calcolato su un campione di  $n$  elementi. È vero che  $A$  e  $B$  sono variabili aleatorie?

9) Sia  $X$  una variabile aleatoria con distribuzione normale di media  $\mu$  e varianza  $\sigma^2$  entrambe sconosciute. Sulla base di un campione di numerosità  $n$  si calcola un intervallo di confidenza per  $\mu$  al

livello del 95%. Esiste un intervallo di confidenza per  $\mu$ , allo stesso livello, su un campione di uguale numerosità con ampiezza minore del precedente?

**10)** Uno scienziato sostiene che il 9% delle stelle ammette un sistema planetario.

- a) Determinare la probabilità che su 1000 stelle almeno 100 abbiano un sistema planetario, secondo le ipotesi dello scienziato.
- b) Sulle 80 stelle più vicine alla terra se ne sono trovate 3 con un sistema planetario. Si calcoli un intervallo di confidenza a livello del 5% per la frequenza relativa delle stelle vicine alla terra con sistema planetario.

**11)** A parità di altre condizioni (numerosità campionaria, ...) è vero che l'ampiezza dell'intervallo di confidenza per il valore atteso è tanto maggiore quanto è minore il livello  $1 - \alpha$ ? Giustificare la risposta.

**12)** Sia  $X$  una variabile aleatoria di legge normale. Si effettua un campionamento di numerosità 10 e si ottengono i seguenti valori campionari:

24.2 22.5 26.7 27.0 28.2 21.3 23.8 24.5 23.2 22.9

- a) Calcolare un intervallo di confidenza per la media a livello di significatività 0.90
- b) Supponendo che la varianza sia nota e pari a 2, indicare la minima numerosità campionaria affinché l'ampiezza dell'intervallo di confidenza sia minore o uguale a 1, mantenendo lo stesso livello di significatività.